




4. LE MAT DU BERGER-1




1-



Quel pion noir non-protégé la dame blanche attaque-t-elle? _____.

2-




Combien y a-t-il d'attaquant sur le pion f7? _____.

Combien y a-t-il de défenseur sur le pion f7? _____. Le trait est aux Noirs, que devraient-ils jouer? Donne deux possibilités.

_____.


NOM : _____

3-



Montre deux façons différentes de menacer le mat du berger. _____.

4-



Comment poursuivre l'attaque du mat du berger? Trouve un coup. _____.